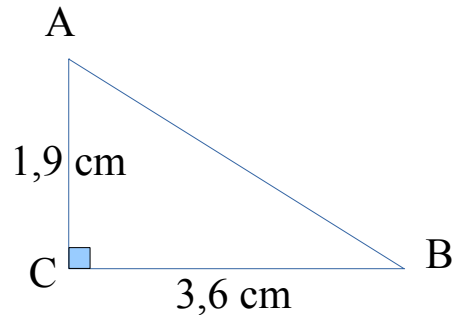


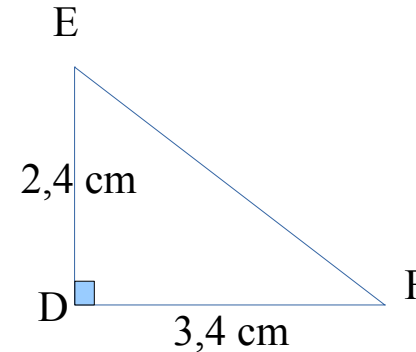
Contrôle

Sujet A :

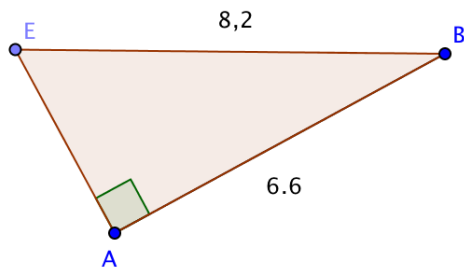


Calculer la longueur AB en détaillant toutes les étapes. On donnera un arrondi au dixième près.

Sujet B :



Calculer la longueur EF en détaillant toutes les étapes. On donnera un arrondi au dixième près.



Sur le dessin ci-contre, calculer la longueur manquante. On arrondira au dixième près. Les longueurs sont indiquées en cm.

