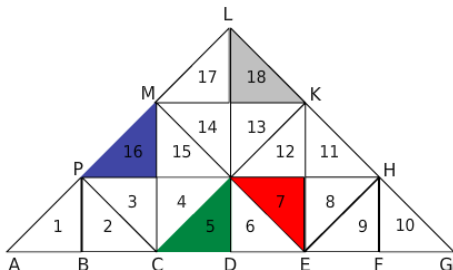


CORRECTION

Correction de l'exercice

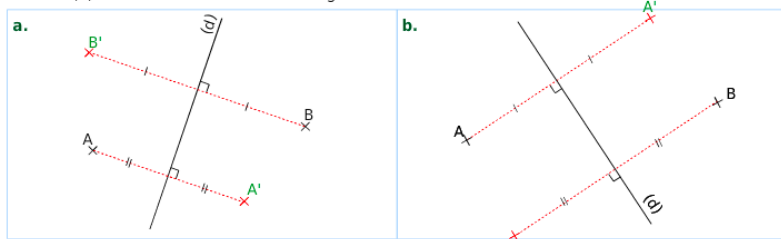
2 Triangles fous !



- a. Colorie en bleu le symétrique du triangle 3 par rapport à la droite (PH).
- b. Colorie en vert le symétrique du triangle 10 par rapport à la droite (KE).
- c. Colorie en rouge le symétrique du triangle 6 par rapport à la droite (ME).
- d. Colorie en gris le symétrique du triangle 11 par rapport à la droite (CK).
- e. Complète les phrases.
 - Les triangles 2 et 9 sont symétriques par rapport à la droite (LD).
 - Les triangles 8 et 17 sont symétriques par rapport à la droite (CK).

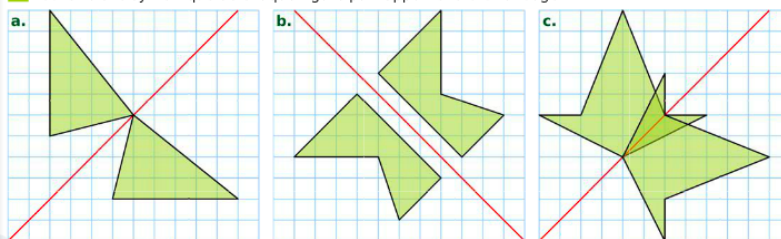
Correction de l'exercice

1 Dans chaque cas, construis les points A' et B' symétriques respectifs des points A et B par rapport à la droite (d) en utilisant tes instruments de géométrie.



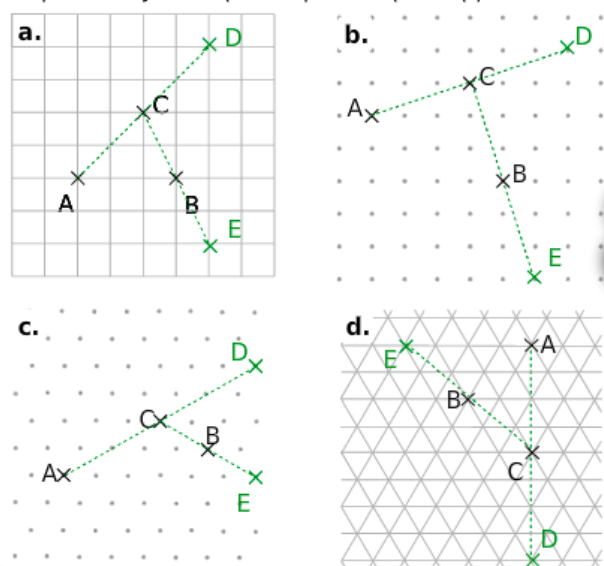
Correction de l'exercice

1 Construis le symétrique de chaque figure par rapport à la droite rouge.



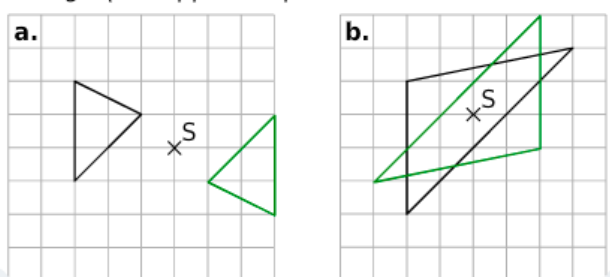
Correction de l'exercice

1 Dans chaque cas, construis le point D symétrique du point A par rapport au point C, puis le point E symétrique du point C par rapport à B.



Correction de l'exercice

2 Dans chaque cas, trace le symétrique du triangle par rapport au point S.



3 Construis le symétrique de chaque chiffre par rapport au point G.

